
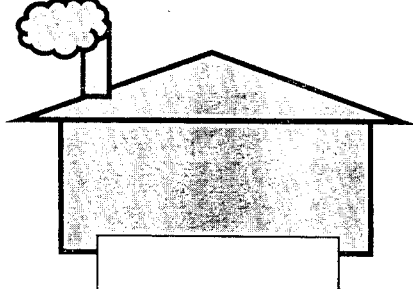
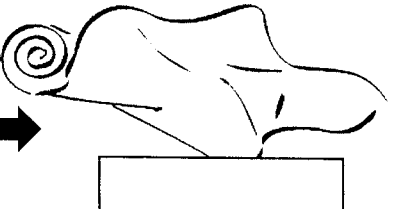


وزارت آموزش و پرورش
 اداره کل آموزش و پرورش استان خوزستان
 مدیریت آموزش و پرورش شهرستان بهبهان
 بخش دبستانی و دبستان غیردولتی
 برتران دانش
 دوره اول و دوم
 کد: ۹۶۰۳۲۸۹۴

نام و نام خانوادگی: آزمون مطالعات اجتماعی پنجم


۱	<p>اولین کسانی که با کندن قنات از آب های زیر زمینی استفاده کردند چه کسانی بودند؟</p> <p>الف) ایرانیان <input type="checkbox"/> ب) مصریان <input type="checkbox"/> ج) عرب های صحرا نشین <input type="checkbox"/> د) چینی ها <input type="checkbox"/></p>
۲	<p>کوچک ترین کشور همسایه ی ایران کدام است؟</p> <p>الف) افغانستان <input type="checkbox"/> ب) ارمنستان <input type="checkbox"/> ج) عراق <input type="checkbox"/> د) پاکستان <input type="checkbox"/></p>
۳	<p>نمایندگان مجلس شورای اسلامی هر چند سال یک بار انتخاب می شوند؟</p> <p>الف) هر چهار سال یک بار <input type="checkbox"/> ب) هر پنج سال یک بار <input type="checkbox"/></p> <p>ج) دائمی هستند <input type="checkbox"/> د) هر دو سال یک بار <input type="checkbox"/></p>
۴	<p>کدام مورد از وظایف دولت نیست؟</p> <p>الف) اجرای قوانین <input type="checkbox"/> ب) تأمین وسایل رفاه و آسایش مردم <input type="checkbox"/></p> <p>ج) دفاع از کشور در برابر حمله ی دشمن <input type="checkbox"/> د) رسیدگی به شکایت ها و اختلافات مردم <input type="checkbox"/></p>
۵	<p>عبارت های زیر را کامل کنید.</p> <p>مهم ترین راه ارتباط انسان ها با یکدیگر است .</p> <p>محدوده ای که هیچ کس نباید بدون اجازه و رضایت شما وارد آن شود..... نام دارد.</p> <p>یکی از دلایل افزایش جمعیت در یک ناحیه ، مردم از نواحی دیگر به آن جاست.</p> <p>به وسایلی که مردم و کالا ها را جابه جا می کنند می گویند.</p>
۶	<p>هر پاسخ را به عبارت مربوط به آن وصل کن .</p> <p>خرید و فروش در داخل کشور یا با کشورهای دیگر را می گویند.</p> <p>راه هایی که مسیر رفت و برگشت با مانع هایی از هم جدا شده اند.</p> <p>تغییراتی که کارگران در کارخانه ها روی مواد اولیه می دهند.</p> <p>مواد و کالاهایی که ما به کشور های دیگر می فروشیم .</p>
۷	<p>کلمه های مقابل را در محل مناسب بنویس . (کارخانه - کالا - ماده ی اولیه)</p> <div style="display: flex; align-items: center; justify-content: center;">  →  →  </div>

- آزاد راه
- صنعت
- واردات
- صادرات
- بازرگانی

۸

جاهای خالی را پر کن .

[Empty box]




[Empty box]



انواع ترس


ترس از آمپول و دکتر




[Empty box]

۹

نام سازمان های زیر و وظیفه ی آن را بنویس .



نام سازمان :



نام سازمان :

[Empty scroll for writing]



[Empty scroll for writing]

وظیفه:

جزوه سیتی

۱۰

دو وسیله ی نقلیه ی زیر را باهم مقایسه کن و در باره ی خوبی ها و عیب های هر یک بنویس .



۱۱

تفاوت صنایع مادر و صنایع مصرفی را بنویس با ذکر مثال.

موفق باشید .